
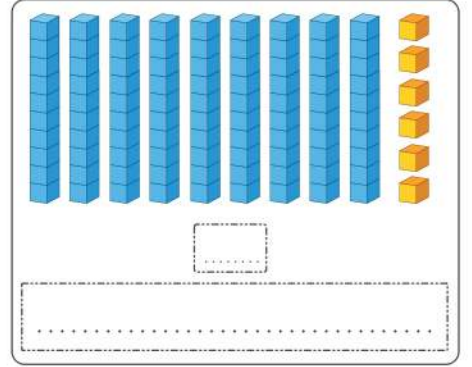

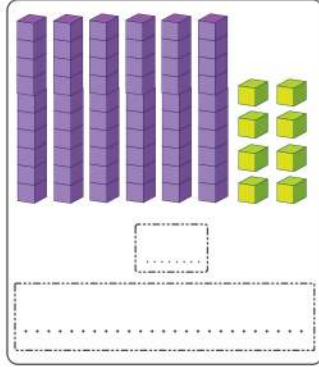
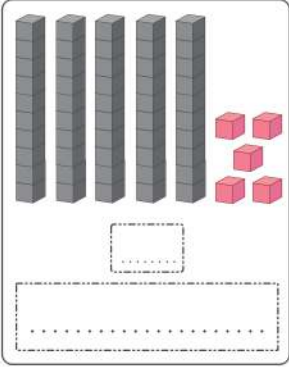


اختبار الفصل الأول في مادة الرياضيات

التمرين الأول : اكتب الأعداد بالأرقام وبالْحُرُوفِ ثُمَّ رتّبها ترتيبًا تصاعديًا :



التمرين الثاني : أنجز العمليّات التّاليّة عموديًا :

$$\begin{array}{r} 35 \\ + 12 \\ \hline = \dots \end{array}$$

$$\begin{array}{r} 82 \\ + 17 \\ \hline = \dots \end{array}$$

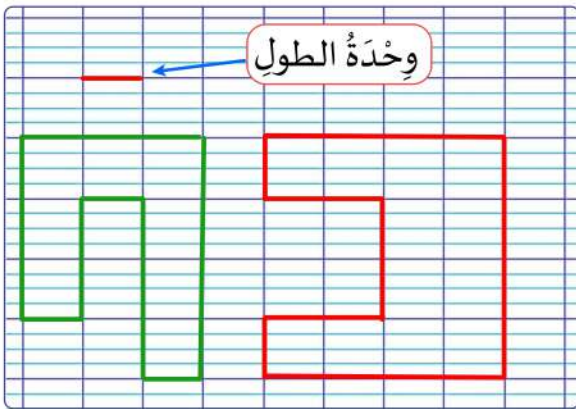
$$\begin{array}{r} 65 \\ - 21 \\ \hline = \dots \end{array}$$

$$\begin{array}{r} 49 \\ - 13 \\ \hline = \dots \end{array}$$

التمرين الثالث : ألاحظ الجدول ثمّ أجب :

عَدَدُ الإِنَاثِ	عَدَدُ الذُّكُورِ	المُسْتَوَى
15	12	السَّنَةُ الأُولَى
12	20	السَّنَةُ الثَّانِيَّة
18	10	السَّنَةُ الثَّالِثَة

- 1- عَدَدُ الإِنَاثِ فِي السَّنَةِ الأُولَى هُوَ:
- 2- عَدَدُ الذُّكُورِ أَكْبَرُ مِنْ عَدَدِ الإِنَاثِ فِي قِسْمِ السَّنَةِ
- 3- أَحْسِبْ المَجْمُوعَ الكُلِّي لِتَلَامِيذِ السَّنَةِ الثَّالِثَة:



التمرين الرابع :

في هذا الشّكل، وحدة الطّول هي ضلعُ مَرَبَعِ المَرصُوفَةِ.
أكمل بالعَدَدِ المُناسِبِ:
طُولُ الشّكلِ المُلَوَّنِ بالأخضرِ هُوَ وَحَدَاتٍ.
طُولُ الشّكلِ المُلَوَّنِ بالأحمرِ هُوَ وَحَدَاتٍ.

الوَضْعِيَّةُ الإِدْمَاجِيَّةُ :

اشترت الأب 15 بُرْتقالةً، ثمّ زادَهُ البائع 8 بُرْتقالاتٍ هَدِيَّةً.

❖ كم بُرْتقالةً أصبَحَت عند الأب؟



الحل


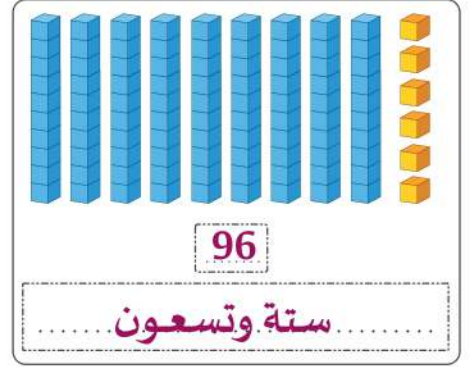


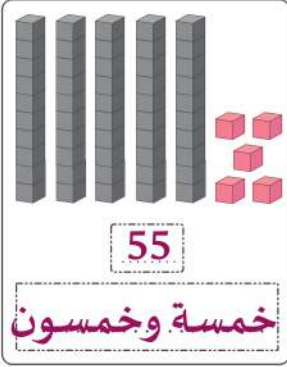
$$\begin{array}{r} \dots \\ \dots \\ + \dots \\ \hline = \dots \end{array}$$

$$\dots = \dots$$

❖ صَارَ عند الأب: بُرْتقالةً.

اختبار الفصل الأول في مادة الرياضيات

التمرين الأول : اكتب الأعداد بالأرقام وبالْحُرُوفِ ثُمَّ رتّبها ترتيبًا تصاعديًا :



التمرين الثاني : أنجز العمليّات التّاليّة عموديًا :

$$\begin{array}{r} 35 \\ + 12 \\ \hline = 47 \end{array}$$

$$\begin{array}{r} 82 \\ + 17 \\ \hline = 99 \end{array}$$

$$\begin{array}{r} 65 \\ - 21 \\ \hline = 44 \end{array}$$

$$\begin{array}{r} 49 \\ - 13 \\ \hline = 36 \end{array}$$

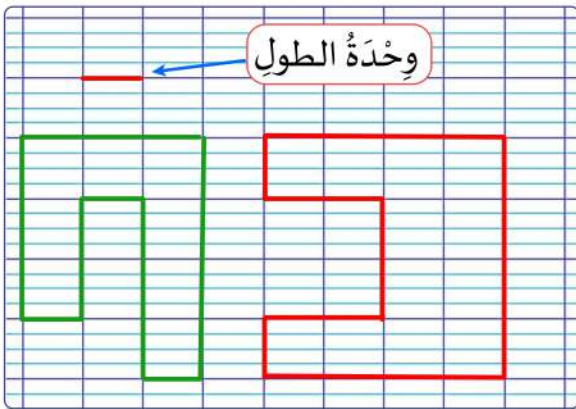
التمرين الثالث : ألاحظ الجدول ثمّ أجب :

عَدَدُ الإِنَاثِ	عَدَدُ الذُّكُورِ	المُسْتَوَى
15	12	السَّنَةُ الأُولَى
12	20	السَّنَةُ الثَّانِيَّة
18	10	السَّنَةُ الثَّالِثَة

1- عَدَدُ الإِنَاثِ فِي السَّنَةِ الأُولَى هُوَ : 15

2- عَدَدُ الذُّكُورِ أَكْبَرُ مِنْ عَدَدِ الإِنَاثِ فِي قِسْمِ السَّنَةِ الثَّانِيَّة

3- أَحْسِبْ المَجْمُوعَ الكُلِّي لِتَلَامِيذِ السَّنَةِ الثَّالِثَة : 28



التمرين الرابع :

في هذا الشّكل، وحدة الطّول هي ضلعُ مَرَبَعِ المَرصُوفَةِ. أكمل بالعَدَدِ المُناسِبِ :

طول الشّكلِ المُلَوَّنِ بالأخضرِ هُوَ 18..... وَحَدَاتٍ.

طول الشّكلِ المُلَوَّنِ بالأحمرِ هُوَ 20..... وَحَدَاتٍ.

الوَضْعِيَّةُ الإِدْمَاجِيَّةُ :

اشترتِ الأبُ 15 بُرْتُقَالَةً، ثُمَّ زادَهُ البَائِعُ 8 بُرْتُقَالَاتٍ هَدِيَّةً.

❖ كم بُرْتُقَالَةً أصبَحَتِ عِنْدَ الأبِ؟

الحل

$$\begin{array}{r} 15 \\ + 8 \\ \hline = 23 \end{array}$$

$$15 + 8 = 23$$

❖ صَارَ عِنْدَ الأبِ : 23.. بُرْتُقَالَةً.

