



الأستاذة:
ناصرى أمينة

تقويم في مادة
الرياضيات



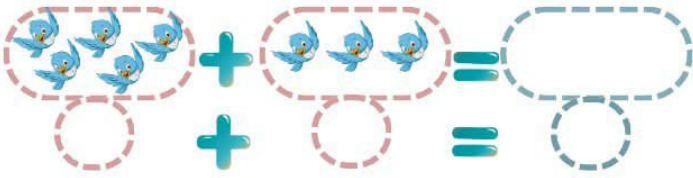
السنة:
الأولى ابتدائي



عدّ وأكتب الناتج:




2 أجمع وأضع العدد المناسب:



3 رتب الأطوال التالية من الأقصر إلى الأطول (1-2-3-4)



لون المسلك الذي يسلكه القرد للوصول إلى الموز



4 ساعد العائلة في الذهاب إلى المسجد

بتلوين المسلك الذي تسلكه



تملك هبة 5 بطاقات استحسنان، وتحصلت خلال الأسبوع الأخير على 3 بطاقات استحسنان.

..... + =

كم بطاقة صارت عند هبة؟

صار عند هبة بطاقات استحسنان.



الأستاذة:
ناصرى أمينة

وقفه تقويمية
للمقطع الثانى



السنة:
الأولى ابتدائي



صنّف كلّ كلمة في مكانها الصحيح:



باب - ثوم - ثوب - فراولة - دجاجة - مؤز - دينار - ليل.

ل

د

م

ب

.....
.....
.....

.....
.....
.....

.....
.....
.....

.....
.....
.....

2 اربط كلّ صوت بالصورة المناسبة ثم أكمل الفراغ:

لَ تَ بَ مَ دَ رَ



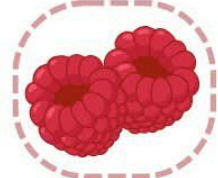
سَام...



مُعَلِّمَةٌ



مِيَّة...



تُو...



حَا...زُونُ



كَلْب...

3 قَطِّعِ الكَلِمَاتِ إِلَى مَقَاطِعِ صَوْتِيَّةٍ :

..... دُودَةٌ

..... مِثْرٌ

..... رِسَالَةٌ

..... عَمُودٌ

4 ادمج المقاطع ثم اكتب الكلمة الناتجة :

..... مَكْبَةٌ

..... رَأْسٌ

..... قَلْبٌ

..... جَبَابٌ