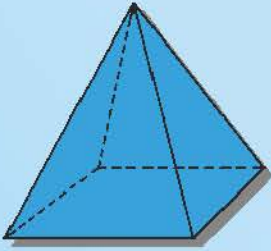


## اهتبار الثلاثي الثالث


**التعريف الأول :** أرتب الأعداد الآتية من الأصغر إلى الأكبر

410 - 940 - 713 - 904 - 104 - 865 - 320 - 240

**التعريف الثاني :** أتمم المَجَسَّمات التالية وأملأ الفراغات .



هذا .....



هذا .....



هذا .....



هذا .....

**التعريف الثالث :** أضع العلامة (X) في الخانة المناسبة .

- كتلة علبة قهوة 250 ..... غرام  كيلو غرام
- كتلة طفل عند ولادته 3 ..... غرام  كيلوغرام
- كتلة دجاجة 2 ..... غرام  كيلوغرام
- كتلة كتاب الرياضيات 350 ..... غرام  كيلوغرام

**التعريف الرابع :**

حقلّ به 582 شجرة تفاح و 132 شجرة موز .

- ما هو العدد الكلي للأشجار ؟

غرس صحب الحقل مجموعة من أشجار الخوخ فأصبح عدد الأشجار به 839 شجرة .

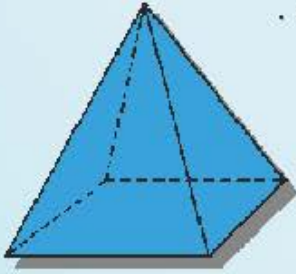
- كم شجرة خوخ غرس ؟

## حل النموذج الثاني للاختبار الثلاثي الثالث


التعريف الأول : أرتب الأعداد .

$$104 < 240 < 320 < 410 < 713 < 865 < 904 < 940$$

التعريف الثاني : أتمم المجسمات التالية وأملأ الفراغات .



هذا هرم



هذا مثلث



هذا مربع



هذا مستطيل

التعريف الثالث : أضع العلامة (X) في الخانة المناسبة .

- |                                     |           |                                     |                |                       |
|-------------------------------------|-----------|-------------------------------------|----------------|-----------------------|
| <input type="checkbox"/>            | كيلو غرام | <input checked="" type="checkbox"/> | 250 ..... غرام | - كتلة علبة قهوة      |
| <input checked="" type="checkbox"/> | كيلوغرام  | <input type="checkbox"/>            | 3 ..... غرام   | - كتلة طفل عند ولادته |
| <input checked="" type="checkbox"/> | كيلوغرام  | <input type="checkbox"/>            | 2 ..... غرام   | - كتلة دجاجة          |
| <input type="checkbox"/>            | كيلوغرام  | <input checked="" type="checkbox"/> | 350 ..... غرام | - كتلة كتاب الرياضيات |

التعريف الرابع :

$$\begin{array}{r} 582 \\ + 132 \\ \hline = 714 \end{array}$$

العملية (1) :  $582 + 132 = 714$

الجواب (1) : العدد الكلي للأشجار **714** شجرة .

$$\begin{array}{r} 839 \\ - 714 \\ \hline = 125 \end{array}$$

العملية (2) :  $839 - 714 = 125$

الجواب (2) : غرس صاحب الحقل **125** شجرة نخوخ .