

الأستاذة عرفى أمال

تقويم الفصل الأول  
في الرياضيات

السنة 1 ابتدائي

الاسم و اللقب: .....

مدرسة: .....

النشاط 1: ألون بطاقة كل مجموع باللون المناسب

$9+1$

$4+1$

$5+1$

$4+5$

$8+2$

$3+3$

$2+3$

10

5

9

6

النشاط الأول: أكمل الشريط العددي

	1	2		5				11						19
--	---	---	--	---	--	--	--	----	--	--	--	--	--	----

النشاط 04: احسب

$3+4=$

$9+4=$

$5+5=$

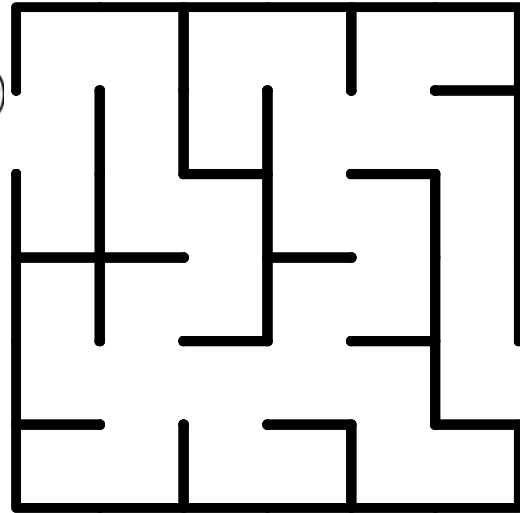
$6+8=$

$2+5=$

$7+7=$

$3+3=$

$10+5=$



الوضعية الإدماجية:

أَكَلَّ أَحْمَدُ وَ حَدِيجَةُ 5 حَبَّاتِ حَلْوَى .

أَشْطَبُ حَبَّاتِ الحَلْوَى الَّتِي أَكَلَهَا أَحْمَدُ وَ حَدِيجَةُ .

أَكْمَلْ

. - . = .

عَدَدُ حَبَّاتِ الحَلْوَى الباقية هُوَ : .....



الأسئلة عرني أمال

تقويم الفصل الأول  
في الرياضياتالسنة  
ابتدائي

الاسم واللقب: .....

مدرسة: .....

النشاط 1: ألون بطاقة كل مجموع باللون المناسب

9+1

4+1

5+1

4+5

8+2

3+3

2+3

10

5

9

6

النشاط الأول: أكمل الشريط العددي

1

2

5

11

19

النشاط 04: احسب

3+4=

9+4=

5+5=

6+8=

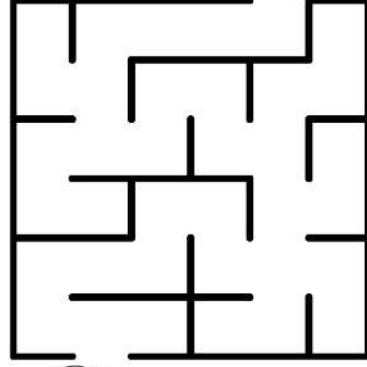
2+5=

7+7=

3+3=

10+5=

النشاط 03: أرسم المسار و ساعد الفأر ليصل إلى الجبن




الوضعية الإدماجية:

أكل أحمد و خديجة 5 حبات حلوى .

أشطب حبات الحلوى التي أكلها أحمد و خديجة .

أكمل

عدّد حبات الحلوى الباقية هو : .....



الأسئلة عرني أمال

تقويم الفصل الأول  
في الرياضياتالسنة  
ابتدائي

الاسم واللقب: .....

مدرسة: .....

النشاط 1: ألون بطاقة كل مجموع باللون المناسب

9+1

4+1

5+1

4+5

8+2

3+3

2+3

10

5

9

6

النشاط الأول: أكمل الشريط العددي

1

2

5

11

19

النشاط 04: احسب

3+4=

9+4=

5+5=

6+8=

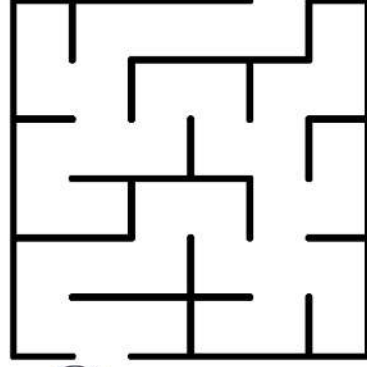
2+5=

7+7=

3+3=

10+5=

النشاط 03: أرسم المسار و ساعد الفأر ليصل إلى الجبن



الوضعية الإدماجية:

أكل أحمد و خديجة 5 حبات حلوى .

أشطب حبات الحلوى التي أكلها أحمد و خديجة .

أكمل

عدّد حبات الحلوى الباقية هو : .....

